





Querida Família



Estamos passando por um momento delicado, o qual envolve a saúde de todos, sem exceção.

Por isso, a contribuição de cada um é muito importante para que voltemos às nossas atividades normais na escola.

Tendo em vista que os estudantes ficarão em casa por um certo tempo, elaboramos algumas sugestões para inspirá-los na nova rotina.

Entendemos que manter uma rotina criativa ajudará, e muito, no retorno das atividades em sala de aula posteriormente.

Vamos juntos embarcar nessa aventura?






Sumário

Geografia **5**

Língua Portuguesa **7**

Matemática **13**




Querido(a) aluno(a),
Vamos ampliar a nossa bagagem de
conhecimento?

Hoje vamos estudar:

- Matemática
- Geografia
- Língua Portuguesa

Am²

Bons estudos! 😊



A large blue circle graphic containing various icons: a truck, a sun, a globe, a lightning bolt, and an airplane. The word "Geografia" is written in a white, cursive font across the circle. To the left of the word, the text "8º ano" is written vertically in a smaller font.

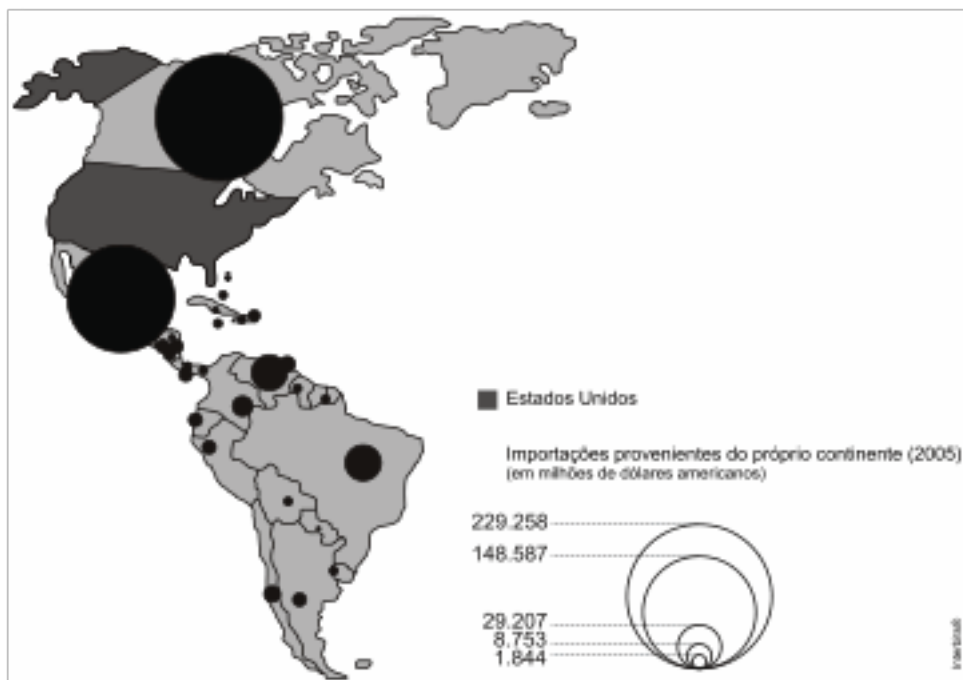
Geografia

Para se mexer:

Como foi a experiência de criar uma cruzadinha *on-line* e compartilhá-la com seu colega? Fez a correção? Passou o *feedback* para seu professor?

Para ir além:

Analise a situação e responda:



O comércio externo constitui um dos aspectos mais importantes da economia nacional em tempos de globalização. Observe, por exemplo, o mapa abaixo, que apresenta as importações dos EUA provenientes do continente americano.

Qual é a principal explicação para o elevado valor do intercâmbio de mercadorias dos Estados Unidos com seus dois principais parceiros no continente americano?



Língua Portuguesa

Vol. 2 – Capítulo 4

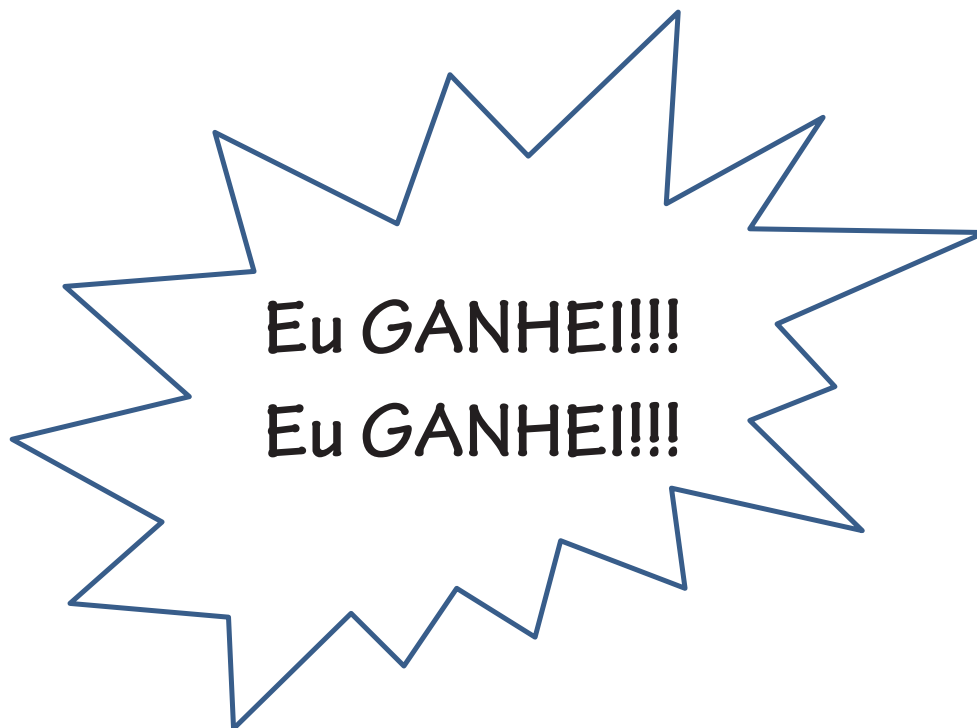
Oi!!!

Esperamos que você tenha curtido o feriado!

Nesta semana tão curtinha, vamos estudar os **complementos verbais**.

Língua portuguesa

Se alguém chegar para você e disser...



No mínimo você ficará curioso(a) para saber o que ele/ela ganhou, não é?

Língua portuguesa

Há verbos que precisam de um complemento para fazer sentido. É o caso do verbo GANHAR.

Eu GANHEI
um PATINETE!!!

Eu GANHEI
uma VIAGEM!!!

Eu GANHEI
um TÊNIS!!!

Eu GANHEI NA
MEGA-SENA!!!

Língua portuguesa

Verbos que necessitam de complemento são chamados de VERBOS TRANSITIVOS.

Ela **comprou**...

... uma calça.

... aquele relógio.

... um sanduíche.

... uma rosa.

COMPRAR -> verbo TRANSITIVO, precisa de complemento para ter sentido.

Esses são os complementos do verbo. Os complementos são chamados de OBJETOS.

*Fácil até aqui?
Então vamos exercitar.*

Língua portuguesa

Vale saber que nem todos os verbos precisam de complemento. Veja:

A flor, que estava no vaso, **murchou**.

O palestrante **pigarreou** durante a sua fala. O sol **nasce** todas as manhãs.

As folhas secas **cairão** no chão.

Esses verbos são chamados de INtransitivos.

Identifique os OBJETOS (complementos), quando houver.

- a) Os animais **correm** pelos campos.
- b) **Moro** em São Luís.
- c) Você **vendeu** sua casa?
- d) Nós **precisamos** de atenção.
- e) Todos **gostam** de carne vermelha?
- f) Ele **gargalhou** muito, enquanto **assistia** ao show.
- g) **Viajarei** assim que **passar** a quarentena!

Língua portuguesa

GABARITO

- a) Os animais **correm** pelos campos.
- b) **Moro** em São Luís.
- c) Você **vendeu sua casa?**
- d) Nós **precisamos de atenção.**
- e) Todos **gostam de carne vermelha?**
- f) Ele **gargalhou** muito, enquanto **assistia ao show.**
- g) **Viajarei** assim que **passar a quarentena!**

Em lilás estão os complementos verbais, os OBJETOS.

Os demais verbos não necessitam de complemento, de objeto. São *intransitivos*.

*Amanhã nos vemos por aqui.
Estarei te esperando!!!*

Matemática

Para se mexer:

Com base no que foi estudado até o momento, preencha a tabela abaixo com as principais características dos quadriláteros.

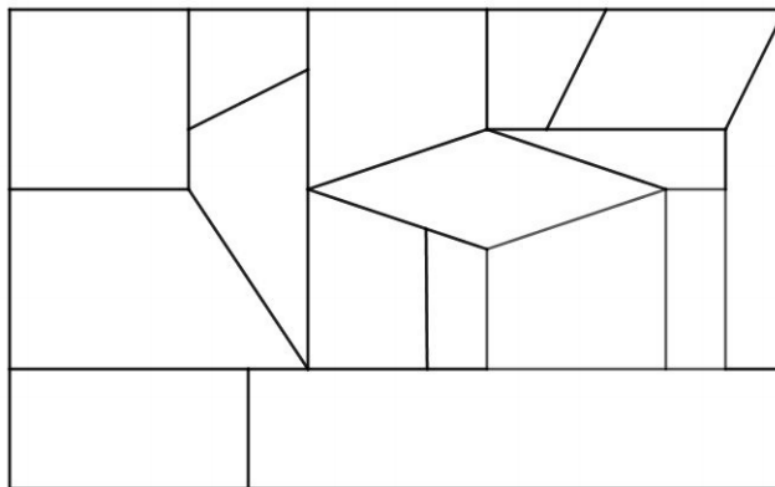
QUADRILÁTERO	CARACTERÍSTICAS NO QUE SE REFERE:	
	AOS LADOS	AOS ÂNGULOS
PARALELOGRAMO		
RETÂNGULO		
LOSANGO		
QUADRADO		

DICA: Se necessário, pesquise sobre o assunto.

Para ir além:

Para analisar e resolver:

Maria está usando toda sua criatividade para construir um quadro retangular composto por quadriláteros, o qual será colorido de acordo com o tipo de quadrilátero construído.



- ▶ Os quadriláteros com somente um par de lados paralelos serão pintados de AMARELO.
 - ▶ Os quadriláteros com somente um par de lados paralelos e apenas dois ângulos retos serão pintados de AZUL.
 - ▶ Os quadriláteros cujos quatro lados possuem a mesma medida serão pintados de VERDE.
-
- a. Como são denominados os quadriláteros azuis? Justifique sua resposta.
 - b. Como são denominados os quadriláteros verdes? Justifique sua resposta.
 - c. Existe algum quadrilátero que pode ser pintado de duas cores? Justifique sua resposta.



Que bom ter a sua companhia nesta grande viagem do conhecimento.

Por hoje é só! Veja o que vamos estudar amanhã:

- Empreendedorismo
- Educação Financeira
 - Ciências
- Língua Portuguesa



Até amanhã!

